


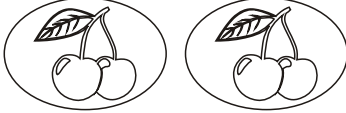
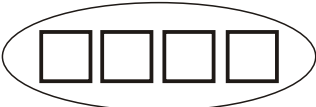





# IL DOPPIO

**RICORDA: IL DOPPIO è la quantità ripetuta due volte (... x 2)**

Osserva e completa:

Quantità	Doppio
 1	 2
 2	 4
 4	
 3	
 5	
 6	


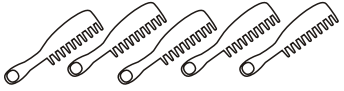




Numero	Doppio
5	$5 \times 2 = 10$
2	$2 \times 2 = \dots\dots\dots$
7	7 $\dots\dots\dots$
10	10 $\dots\dots\dots$
9	9 $\dots\dots\dots$

Numero	Doppio
8	$\dots\dots\dots$
3	$\dots\dots\dots$
4	$\dots\dots\dots$
6	$\dots\dots\dots$
2	$\dots\dots\dots$

# IL TRIPLO

**RICORDA: IL TRIPLO è la quantità ripetuta tre volte (... x 3)**

Osserva e completa:

Quantità	Triplo
 1	3
 5	15
 2	
 4	
 3	
 6	

Numero	Triplo
5	$5 \times 3 = 15$
2	$2 \times 3 = \dots\dots\dots$
7	7 $\dots\dots\dots$
10	10 $\dots\dots\dots$
9	9 $\dots\dots\dots$

Numero	Triplo
8	$\dots\dots\dots$
3	$\dots\dots\dots$
4	$\dots\dots\dots$
6	$\dots\dots\dots$
2	$\dots\dots\dots$