




ESERCIZI CON I NUMERI FINO A 17



Confronto i numeri usando maggiore, minore e uguale:

10		17
4		12
18		16
13		13
2		5
7		11
9		7
11		11

17		17
14		17
8		1
10		12
15		12
5		5
6		16
11		10

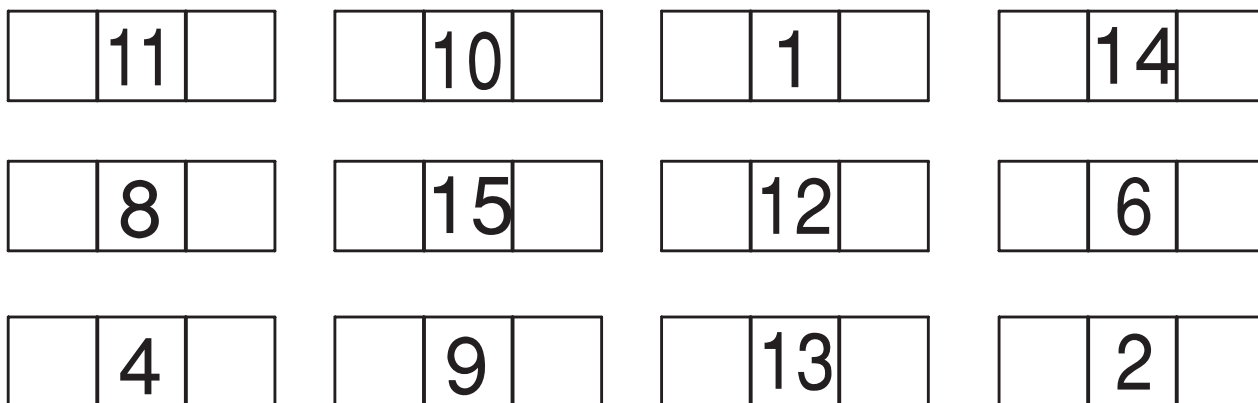
12		33
5		8
10		10
14		15
16		16
15		5
13		14
17		13



Completo con i numeri mancanti:



Scrivo il precedente ed il successivo:



Numero per 1 da 0 a 17:

.....

Numero per 1 da 4 a 13

.....

Numero per 1 da 9 a 17

.....

Numero per 1 da 17 a 0

.....

Numero per 1 da 15 a 5

.....

Numero per 1 da 11 a 0

.....