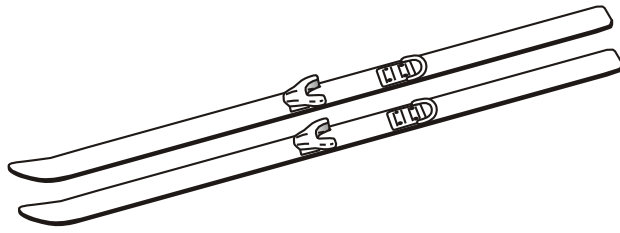


IL PAIO

Osserva e completa:

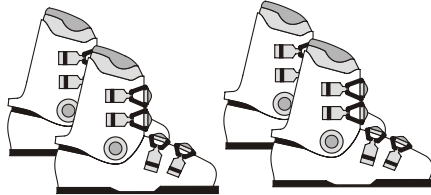
1 paio di sci



Quanti sci in tutto?

$$2 \times 1 = \dots\dots\dots$$


2 paia di scarponi



Quanti scarponi in tutto?

$$2 \times 2 = \dots\dots\dots$$

3 paia di guanti



Quanti guanti in tutto?

$$\dots\dots \times \dots\dots = \dots\dots\dots$$

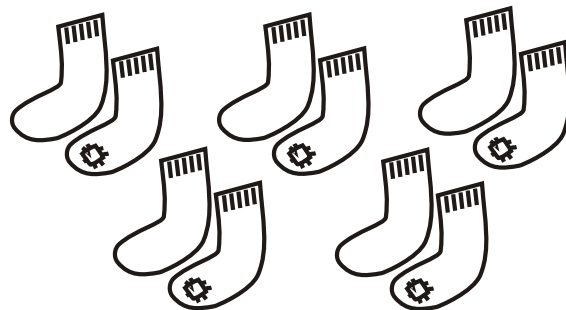
4 paia di orecchini



Quanti orecchini in tutto?

$$\dots\dots \times \dots\dots = \dots\dots\dots$$


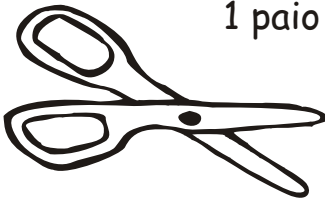
5 paia di calzini



Quanti calzini in tutto?

$$\dots\dots \times \dots\dots = \dots\dots\dots$$

Osserva:

<p>1 paio di occhiali</p>  <p>2 lenti</p>	<p>1 paio di forbici</p>  <p>2 lame</p>
--	---

RICORDA: 1 PAIO = 2 oggetti uguali che si usano insieme