


PROBLEMI


I PUFFI NEL BOSCO



Puffetta
vuole preparare
un'ottima macedonia e ha
raccolto 15 fragole, 12 more e
appena 2 lamponi.

**Quanti frutti
selvatici ha raccolto
in tutto?**

1



Grande
Puffo ha raccolto 39
pigne. Ne distribuisce 28 ai
suoi amati puffi.
**Quante pigne gli
rimangono?**

2

Puffo
Postino ha distribuito
oggi 13 lettere e 20
cartoline ai suoi amici.


**Quanti messaggi
aveva nella borsa
prima di partire?**

3


Puffo
Burlone e Puffo Pittore
fanno una gara: vanno nel bosco
a raccogliere funghi. Burlone ne
raccolge 38, mentre Pittore
solo 13.

**Chi ha raccolto più
funghi? Che
differenza c'è?**

4



PROBLEMI NELLE FORME



Sergio va al Luna Park e si diverte con il tiro a segno. Con la prima pallina colpisce 11 barattoli, con la seconda 5 e con la terza 13. **Quanti barattoli ha colpito in tutto Sergio?**

1



La mamma ha acquistato una cassetta con 36 mele gialle. A fine settimana conta le mele rimaste nella cassetta: sono 15.

Quante sono le mele già mangiate?

2



È una giornata calda e tutti corrono al bar a comprare il gelato. Nel freezer del bar, questa mattina, c'erano 39 gelati misti. Il barista ne ha venduti 27.


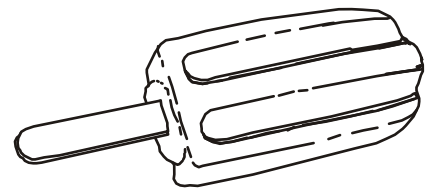
Quanti gelati sono rimasti?

3

La corriera del signor Rossi fa salire ogni giorno 12 operai alla prima fermata, 4 alla seconda e 11 alla terza.

Quanti operai trasporta ogni giorno?

4



Andrea e Giacomo si divertono a contare i passi che percorrono nel giardino della scuola. Andrea fa 36 passi per andare all'altalena, Giacomo ne fa 20 per raggiungere lo scivolo.

Che differenza di passi c'è?

5