



IL CENTINAIO


100 unità



10 decine



1 centinaio



=

=

ESERCIZI

Quante unità occorrono per avere un centinaio? E quante decine?

Qual'è il numero più piccolo che si può scrivere con tre cifre non uguali?

A quante centinaia equivalgono 100 unità? A quante decine?

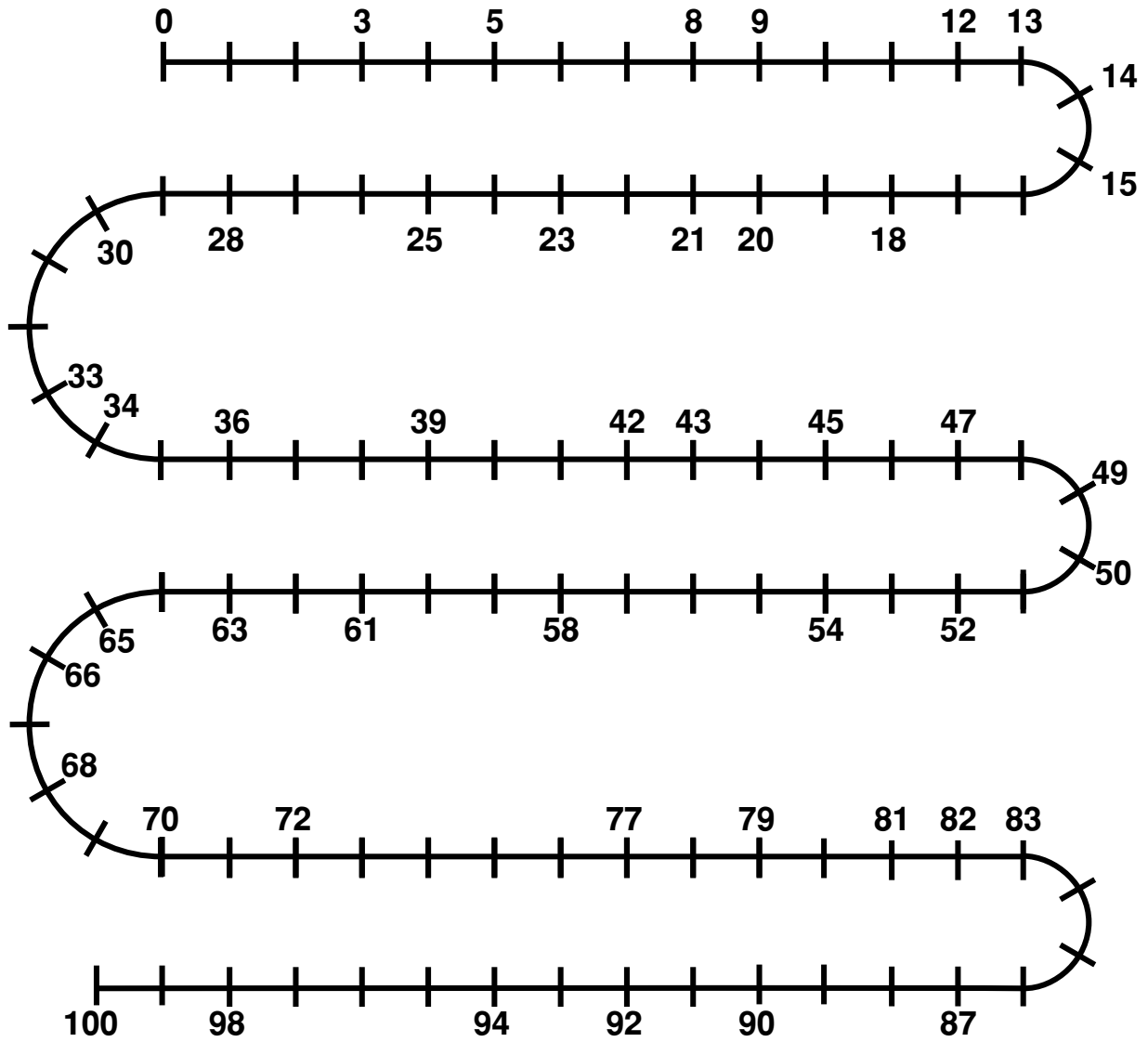
Quale numero si ottiene se al centinaio si tolgono 4 decine?

Qual'è il simbolo del "centinaio"?

Che numero si ottiene se a 1 centinaio si toglie 1 decina?

Se si tolgono 10 unità? Se si tolgono 10 decine?

Completa con i numeri mancanti



1	2		4			7			10
	12			15		17		19	
21		23				27			
31			34		36			39	40
	42					47			
	52			55			58		60
			64		66			69	70
71		73				77			
81			84						90
	92					97	98		