




## PROBLEMI con le quattro operazioni LISTA 1

1) Capitan Terrore deve distribuire in parti uguali 27 monete d'oro a 3 pirati. Quante monete per ciascuno?

2) Andrea distribuisce 42 biscotti tra 6 bambini. Quanti biscotti ad ogni bambino?

3) Un pirata birbone nasconde 35 medaglioni d'argento in 5 buche scavate nel terreno. Quanti medaglioni in ogni buca?

4) Carla ha distribuito ai suoi 6 compagni di viaggio 3 caramelle ciascuno. Quante caramelle ha distribuito in tutto?



5) Il pirata Furibondo vuole suddividere 24 perle rare in 3 cofanetti. Quante perle in ogni cofanetto?

6) Un gruppo di amici parte per il mare. Ci sono 5 auto e su ogni auto viaggiano 4 persone. Quante persone in tutto?


7) Dopo l'ultimo assalto alle navi nemiche dal bottino rimangono 20 dobloni. Si vogliono distribuire a 5 pirati. Quanti dobloni ad ogni pirata?

8) Luca sta facendo la spesa al supermercato. Nel suo carrello ci sono 5 confezioni di succhi di frutta. Ogni confezione contiene 3 succhi. Quanti succhi di frutta in tutto?

9) Nel porto sono sbarcati 21 pirati distribuiti in 3 equipaggi. Quanti pirati in ogni equipaggio?

10) Laura ha raccolto 14 rose nel suo giardino e le vuole mettere in 2 vasi. Quante rose in ogni vaso?

## PROBLEMI con le quattro operazioni LISTA 2



1) Ci sono 18 uccellini e 3 gabbie. Se suddivido gli uccellini nelle gabbie in parti uguali, quanti uccellini devo mettere in ogni gabbia?

2) Babbo Natale ha 24 regali da distribuire ai bambini di un ospedale. Se consegna 4 regali a ogni bambino, quanti bambini accontenterà?

3) Questa settimana un pasticciere ha preparato 82 torte. Ne ha vendute 37. Quante torte gli sono rimaste?



4) Marco ha contato le ruote delle sue automobili e ha scoperto che sono 28. Quante automobili ha? (Attento c'è un dato nascosto)

5) Paolo ha 85 figurine, Matteo 35 di meno. Quante figurine ha Matteo?


6) Le 36 bambine e i 37 bambini di una scuola devono partire per una gita assieme ai loro 9 accompagnatori. Quanti posti in treno si dovranno prenotare?

7) Giuseppe ha 15 conigli e decide di metterne 5 in ogni recinto. Quanti recinti dovrà costruire?

8) Nella stalla ho contato 20 zampe, quante mucche? (Attento c'è un dato nascosto)

9) Ad una gara di pesca sono stati pescati 32 pesci. Se alla fine vengono distribuiti fra i 4 pescatori, quanti pesci riceverà ogni pescatore?

10) Il papà ha 45 anni e sua figlia ne ha 8. Quanti anni hanno di differenza?



## PROBLEMI con le quattro operazioni LISTA 3



1) Una famiglia di scoiattoli raccoglie 48 noci che vengono distribuite in parti uguali tra loro 6. Quante noci toccheranno ad ogni scoiattolo?

2) Una scatola conteneva 7 decine di cravatte. Se ne sono state vendute 48, quante cravatte sono rimaste?

3) Luca deve bere lo sciroppo 3 volte al giorno per 7 giorni di seguito. Quante volte avrà bevuto lo sciroppo al termine della settimana?

4) Maria ha 40 caramelle e vuole suddividerle in 4 sacchetti. Quante caramelle metterà in ogni sacchetto?

5) Luca ha 30 francobolli. Ne vuole mettere 10 in ogni pagina dell'album. Di quante pagine avrà bisogno?

6) In profumeria le saponette sono vendute in confezioni da 5. Quante saponetteavrò in tutto se compero 9 confezioni?

7) Un giardiniere ha piantato 32 giacinti, 25 tulipani e 18 rose. Quanti fiori ha piantato in tutto?

8) In 3 giorni Paola ha letto un libro di 27 pagine. In media quante pagine ha letto al giorno?

9) Durante la sfilata passano 7 squadre di soldati. Se in tutto i soldati sono 63, da quanti soldati è formata ogni squadra?

10) In una corsa sono partiti 78 corridori. Ne sono giunti all'arrivo solo 59. Quanti corridori si sono ritirati?