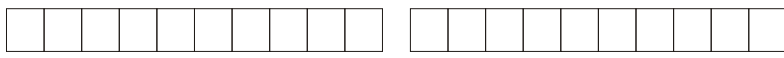


FRAZIONI DECIMALI - NUMERI DECIMALI

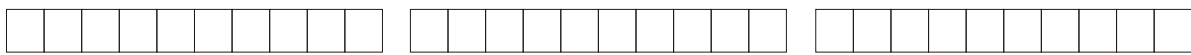
Colora le seguenti frazioni, cosa noti?



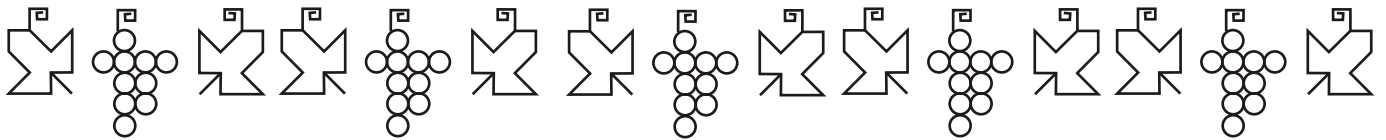
$$\frac{15}{10}$$



$$\frac{21}{10}$$



$$\frac{28}{10}$$



Metto le frazioni al posto giusto

Così come è stato ingrandito e suddiviso in decimi l'intervallo tra 0 e 1, allo stesso modo si possono ingrandire e suddividere tutti gli altri intervalli unitari della linea dei numeri: tra 1 e 2, tra 2 e 3, ecc.

Mettiamo al loro posto le seguenti frazioni:

$$\frac{2}{10} \quad \frac{9}{10} \quad \frac{10}{10} \quad \frac{16}{10} \quad \frac{20}{10} \quad \frac{27}{10} \quad \frac{29}{10}$$

