

Indovinello

Vuoi sapere quante uova ha fatto la gallina Pinuccia?

Segui gli indizi e lo saprai.

- È un numero che trovi contando per due da 10 a 40.
- La cifra delle decine è minore di quella della unità.
- La cifra delle unità non è 4.
- La cifra delle decine è 3 o 2.
- La somma delle sue cifre è minore di una decina.
- La cifra delle decine è 2.

Pinuccia ha fatto uova.



Indovinello

Vuoi sapere quante uova ha fatto la gallina Pinuccia?

Segui gli indizi e lo saprai.

- È un numero che trovi contando per due da 10 a 40.
- La cifra delle decine è minore di quella della unità.
- La cifra delle unità non è 4.
- La cifra delle decine è 3 o 2.
- La somma delle sue cifre è minore di una decina.
- La cifra delle decine è 2.

Pinuccia ha fatto uova.



Indovinello

Vuoi sapere quante uova ha fatto la gallina Pinuccia?

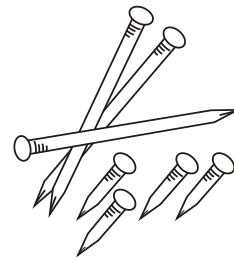
Segui gli indizi e lo saprai.

- È un numero che trovi contando per due da 10 a 40.
- La cifra delle decine è minore di quella della unità.
- La cifra delle unità non è 4.
- La cifra delle decine è 3 o 2.
- La somma delle sue cifre è minore di una decina.
- La cifra delle decine è 2.

Pinuccia ha fatto uova.



UN PROBLEMA DI ... CHIODI!



I piacciono i tranelli? Leggi attentamente e risolvi.

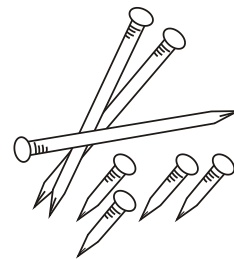
Gianni, Luca e Mario vogliono costruire uno steccato per il recinto del pony appena nato. Decidono di andare in un negozio di ferramenta ad acquistare dei chiodi. Gianni compera 3 sacchetti di chiodi lunghi: ogni sacchetto contiene 15 chiodi. Luca compera 4 sacchetti di chiodi corti: ogni sacchetto contiene 17 chiodi.

Quanti sacchetti compera Gianni?

Quanti sacchetti compera Luca?

Quanti sacchetti comperano insieme?

UN PROBLEMA DI ... CHIODI!



I piacciono i tranelli? Leggi attentamente e risolvi.

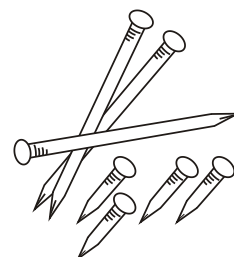
Gianni, Luca e Mario vogliono costruire uno steccato per il recinto del pony appena nato. Decidono di andare in un negozio di ferramenta ad acquistare dei chiodi. Gianni compera 3 sacchetti di chiodi lunghi: ogni sacchetto contiene 15 chiodi. Luca compera 4 sacchetti di chiodi corti: ogni sacchetto contiene 17 chiodi.

Quanti sacchetti compera Gianni?

Quanti sacchetti compera Luca?

Quanti sacchetti comperano insieme?

UN PROBLEMA DI ... CHIODI!



I piacciono i tranelli? Leggi attentamente e risolvi.

Gianni, Luca e Mario vogliono costruire uno steccato per il recinto del pony appena nato. Decidono di andare in un negozio di ferramenta ad acquistare dei chiodi. Gianni compera 3 sacchetti di chiodi lunghi: ogni sacchetto contiene 15 chiodi. Luca compera 4 sacchetti di chiodi corti: ogni sacchetto contiene 17 chiodi.

Quanti sacchetti compera Gianni?

Quanti sacchetti compera Luca?

Quanti sacchetti comperano insieme?