


Leggi le frazioni

a.




Questo cerchio ha 2 parti uguali.

È stato diviso in mezzi

Ogni parte si chiama un mezzo.

b.




Questo rettangolo ha _____ parti uguali.

È stato diviso in _____

Ogni parte si chiama _____.

c.

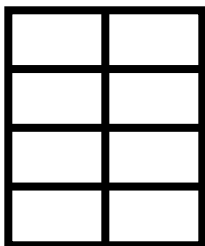


Questo cerchio ha _____ parti uguali.

È stato diviso in _____

Ogni parte si chiama _____.

d.



Questo rettangolo ha _____ parti uguali.

È stato diviso in _____

Ogni parte si chiama _____.

e.



Questo cerchio ha _____ parti uguali.


È stato diviso in _____

Ogni parte si chiama _____.

SOLUZIONI

Leggi le frazioni

a.

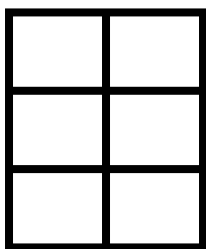


Questo cerchio ha 2 parti uguali.

È stato diviso in mezzi

Ogni parte si chiama un mezzo.

b.




Questo rettangolo ha 6 parti uguali.

È stato diviso in sesti

Ogni parte si chiama un sesto.

c.

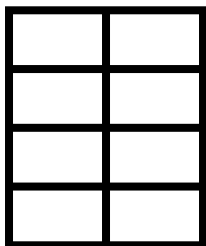


Questo cerchio ha 4 parti uguali.

È stato diviso in quarti

Ogni parte si chiama un quarto.

d.



Questo rettangolo ha 8 parti uguali.

È stato diviso in ottavi

Ogni parte si chiama un ottavo.

e.



Questo cerchio ha 3 parti uguali.

È stato diviso in terzi

Ogni parte si chiama un terzo.