

Cognome e nome.....data.....

VERIFICA DI GEOMETRIA GLI ANGOLI

Metti una crocetta di fianco alla risposta esatta:

1) Quale di queste definizioni di angolo è esatta?

- L'angolo è una parte di piano compresa tra due semirette, che hanno la stessa origine.
- Più sono lunghi i suoi lati maggiore è l'angolo.
- L'angolo è lo spazio racchiuso da una linea spezzata chiusa.

2) L'unità di misura dell'angolo è il grado, è stato ottenuto dividendo:

- l'angolo piatto in 90 parti;
- l'angolo retto in 180 parti;
- l'angolo giro in 360 parti.

3) Un angolo minore di 90° è detto:

- acuto
- retto
- ottuso

4) La metà di un angolo piatto è:

- ottuso
- acuto
- retto

5) In un angolo retto:

- i lati si incontrano obliquamente;
- i lati sono perpendicolari tra loro;
- i lati sono semirette opposte.

6) Per misurare gli angoli si utilizza uno strumento chiamato:

- goniometro;
- compasso;
- righello.

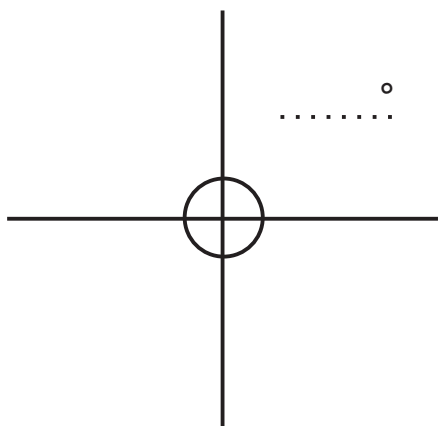
7) Un angolo minore di 90° è detto:

- acuto.
- retto.
- ottuso.

8) Un angolo di 360° è chiamato:

- piatto.
- giro.
- retto.

9) Come si chiamano i seguenti angoli? Scrivi il nome e quanto misurano, senza usare il goniometro:



.....°




.....°

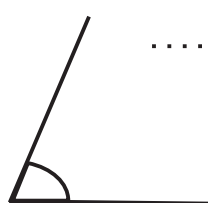


.....°

10) Usando il goniometro misura i seguenti angoli e poi classificali in acuti e ottusi:



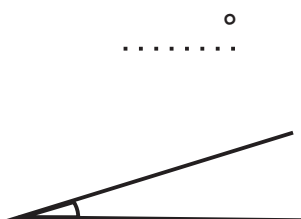
.....°



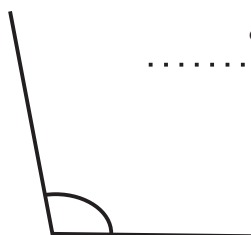
.....°



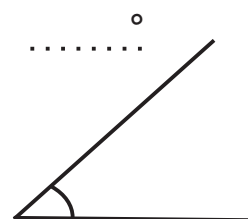
.....°



.....°



.....°



.....°
